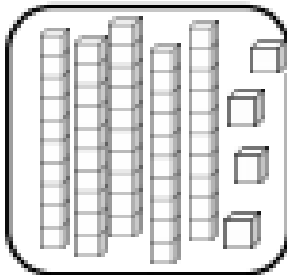
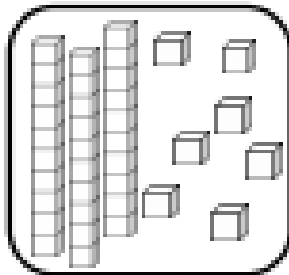


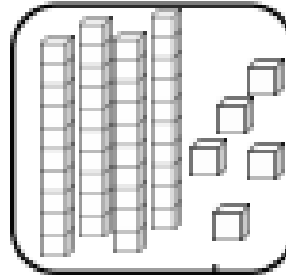
Nombres et quantités : de 0 à 60

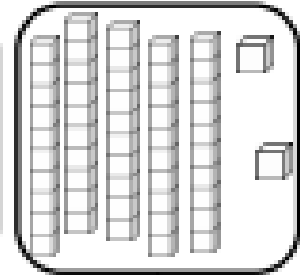


1 Complète avec le bon nombre :

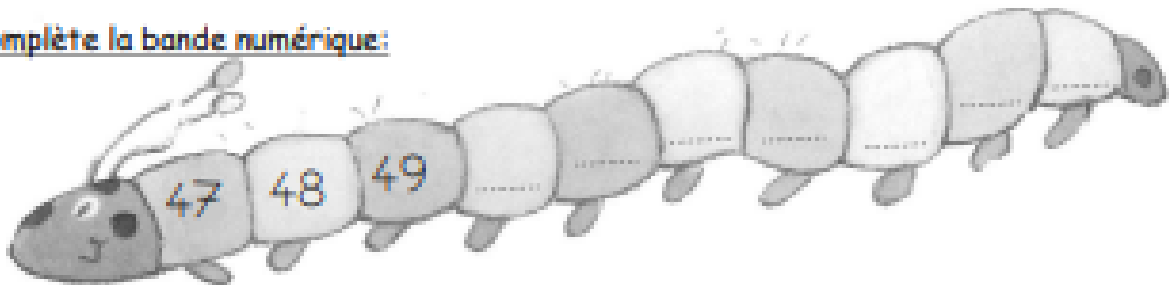








2 Complète la bande numérique:



Nombres et quantités : de 0 à 60

1 Complète le tableau des nombres

10		12	13	14	15	16	17	18	
	21	22	23	24			27	28	29
30	31		33		35	36		38	
	41	42		44		46			49
	51	52	53	54	55		57	58	59

2 Trouve combien Arthur a d'argent dans sa tirelire :

