



# Je révisé



Julien

09/06/2020

Exercice n° 1

Effectue ces opérations.

$$\begin{array}{r} 614 \\ - 39 \\ \hline 35 \end{array}$$

$$\begin{array}{r} 84 \\ - 23 \\ \hline 61 \end{array}$$

$$\begin{array}{r} 1135 \\ + 98 \\ \hline 1333 \end{array}$$

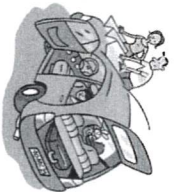
$$\begin{array}{r} 511 \\ - 26 \\ \hline 35 \end{array}$$

$$\begin{array}{r} 1148 \\ + 76 \\ \hline 124 \end{array}$$

Score :

Exercice n° 2

Prépare ce problème.



Pour partir en vacances, le papa de Lili pense rouler 284 km le matin et 457 km l'après-midi.  
Combien de km vont-ils faire dans la journée ?

Calcul :  $284 + 457 = 741$

Phrase-réponse :

Ils vont faire **741** km.

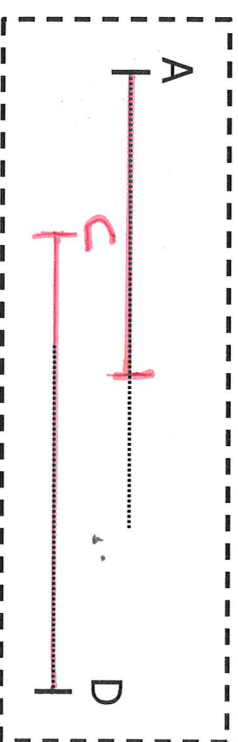
<http://laclassebleue.fr/>

Score :

$$\begin{array}{r} 1124 \\ + 284 \\ \hline 741 \end{array}$$

Trace :

- un segment bleu [AB] de 4 cm de longueur,
- un segment vert [CD] de 6 cm.



Score :

L'addition - La soustraction - Mesure des longueurs