
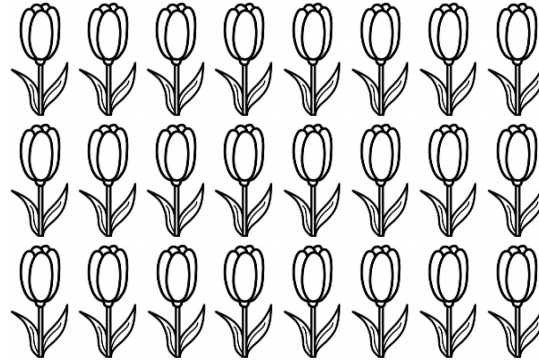



# Je révisé



## Exercice n° 1

Complète les égalités.



$6 + \dots = \dots$   
 $2 + \dots = \dots$   
 $6 \times \dots = 2 \times \dots = \dots$

$8 + \dots = \dots$   
 $3 + \dots = \dots$   
 $8 \times \dots = 3 \times \dots = \dots$

$\dots + \dots = \dots$   
 $\dots + \dots = \dots$   
 $\dots \times \dots = \dots \times \dots = \dots$

Score :

## Exercice n° 2

Colorie de la même couleur les additions et les multiplications qui leur correspondent.

$3 + 3 + 3 + 3$

$4 \times 5$

$3 \times 4$

$9 + 9 + 9$

$5 \times 7$

$7 + 7 + 7 + 7 + 7$

$3 \times 9$

Score :