


Meuree


CE1

..... / /

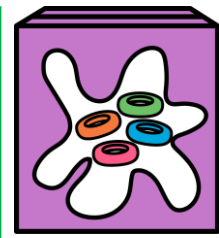
PRÉNOM :



① Combien ces objets coutent-ils ?



Cet objet coute € c.




Cet objet coute € c.




Cet objet coute € c.

② Dessine la somme d'argent nécessaire pour payer ces jouets.



③ Qui a le plus d'argent : Zoé ou Léo ?



C'est qui a le plus d'argent.