

## CALCUL MENTAL

Énoncer des ajouts et des retraites  
→ Faire écrire le résultat.






1 Nino et Lali veulent aider le Grand Valentino à ranger ses 96 gobelets magiques.

a. Nino a trouvé une boîte qui peut contenir 40 gobelets.


Nino range les 40 gobelets.  
Combien en reste-t-il à ranger ?

$$9 \text{ d } 6 \text{ u} - 4 \text{ d} = \dots\dots \text{ d } 6 \text{ u}$$

Il reste  $\dots\dots$  gobelets à ranger.



b. Lali a trouvé une boîte qui peut contenir 30 gobelets.




Lali remplit complètement sa boîte.  
Combien de gobelets reste-t-il à ranger ?

$$\dots\dots \text{ d } 6 \text{ u} - \dots\dots \text{ d} = \dots\dots \text{ d } 6 \text{ u}$$

Il reste  $\dots\dots$  gobelets à ranger.

Commence par écrire  
le nombre de dizaines  
trouvé à l'étape  
précédente.



2 Calcule.

$90 - 60 = \dots\dots$

$88 - 50 = \dots\dots$

$165 - 60 = \dots\dots$

$140 - 50 = \dots\dots$

$45 - 20 = \dots\dots$


$128 - 30 = \dots\dots$

$160 - 90 = \dots\dots$

$99 - 70 = \dots\dots$

$149 - 60 = \dots\dots$

3 Lali a fabriqué une guirlande d'un mètre.  
Mais elle est trop longue. Elle retire 70 cm.  
Quelle est la longueur du bout de guirlande qui reste ?



Complète : Il restera  $\dots\dots$  cm de guirlande.

Rappelle-toi :  
1 mètre = 100 cm.

