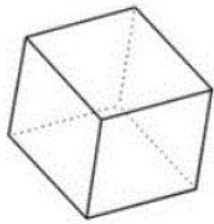
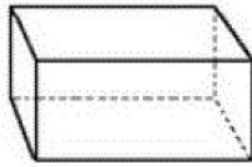


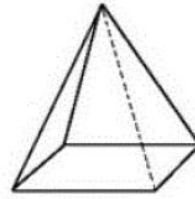
→ **Complète le tableau.** (Si besoin, tu peux mettre des couleurs sur les images...)



A



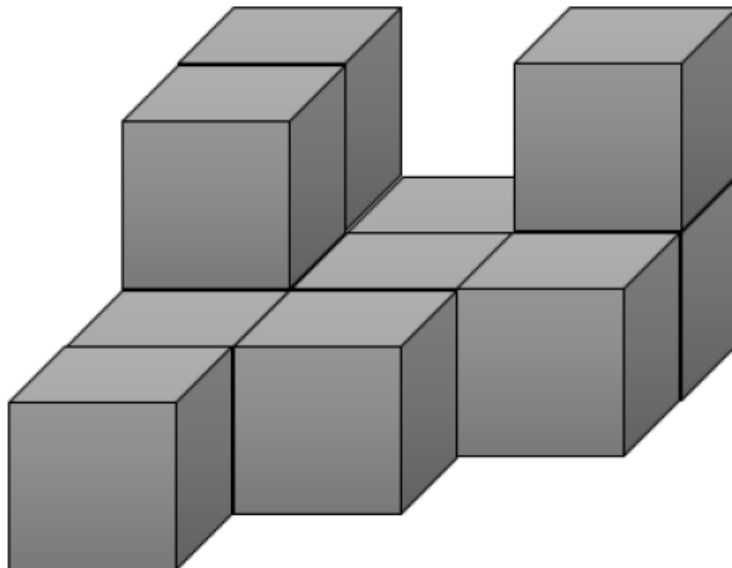
B



C

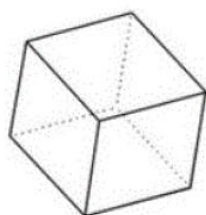
	Nombre de faces	Nombre de sommets	Nombre d'arêtes
A			
B			
C			

→ **Combien y a-t-il de cubes ?**




**Correction :**

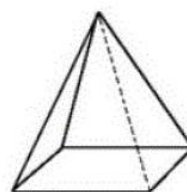
**→ Complète le tableau.** (Si besoin, tu peux mettre des couleurs sur les images...)



A



B



C

	Nombre de faces	Nombre de sommets	Nombre d'arêtes
A	6	8	12
B	6	8	12
C	5	5	8

**→ Combien y a-t-il de cubes ?**

**Il y a 12 cubes.**