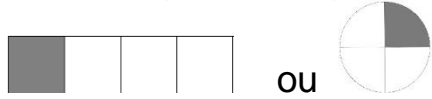


## Leçon 8 : Les fractions

On a partagé le rectangle et le disque en 4 parties égales :




La partie grise représente la fraction :  $\frac{1}{4}$

**1** est le **numérateur** : nombre de parts que l'on a colorié.  
**4** est le **dénominateur** : en combien de parts on partage l'unité.

⇒ Une **fraction** est un nombre qui représente le nombre de parts d'une unité que l'on a partagé en parts égales.

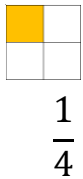
### Exemples :



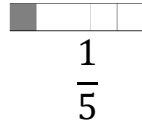
Un demi



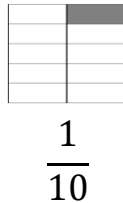
Un tiers



Un quart



Un cinquième



Un dixième

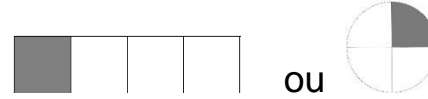


CANOPÉ

<https://huit.re/CMLecon8>

## Leçon 8 : Les fractions

On a partagé le rectangle et le disque en 4 parties égales :

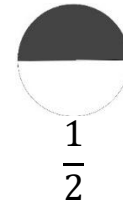


La partie grise représente la fraction :  $\frac{1}{4}$

**1** est le **numérateur** : nombre de parts que l'on a colorié.  
**4** est le **dénominateur** : en combien de parts on partage l'unité.

⇒ Une **fraction** est un nombre qui représente le nombre de parts d'une unité que l'on a partagé en parts égales.

### Exemples :



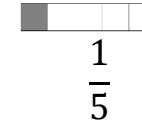
Un demi



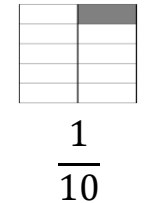
Un tiers



Un quart



Un cinquième



Un dixième



<https://huit.re/CMLecon8>